
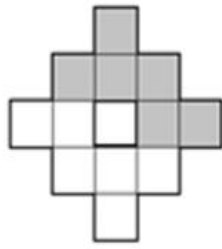


1 вариант

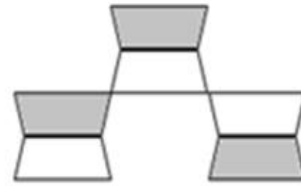
1. Записать закрашенную часть дробью



Знак «Толзъ» - луна



Знак «Кизили» - звезда



Знак «Зольгыри пытты» - след воробья

2. В классе 25 учеников. Из них 13 девочек. Какую часть учащихся составляют девочки?

Ответ \_\_\_\_\_

3. Выполните действие: а)  $\frac{17}{20} - \frac{11}{20} =$

б)  $\frac{48}{72} + \frac{19}{72} =$

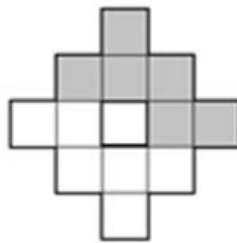
в)  $\frac{11}{903} + \frac{236}{903} - \frac{45}{903} =$

2 вариант

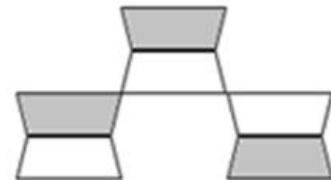
1. Записать закрашенную часть дробью



Знак «Толзъ» - луна



Знак «Кизили» - звезда



Знак «Зольгыри пытты» - след воробья

2. В шахматном кружке занимается 12 учеников. Трое из них стали победителями турнира. Какая часть кружковцев стала победителями турнира?

Ответ \_\_\_\_\_

3. Выполните действие: а)  $\frac{54}{63} - \frac{28}{63} =$

б)  $\frac{135}{200} + \frac{39}{200} =$

в)  $\frac{56}{97} + \frac{15}{97} - \frac{37}{97} =$